


Défis Mécaniques



1. Peux-tu faire tourner deux roues dentées éloignées ?




2. Peux-tu placer des roues dentées de la même couleur quand elles tournent dans le même sens que l'une de ces deux roues ?



3. Peux-tu faire tourner une roue verticale ?

4. Peux-tu réaliser un pont basculant ?

(Dessine ce que tu as fait.)



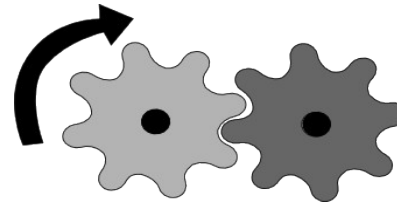
Défis Mécaniques



1. Peux-tu faire tourner deux roues dentées éloignées ?



2. Peux-tu placer des roues dentées de la même couleur quand elles tournent dans le même sens que l'une de ces deux roues ?



3. Peux-tu faire tourner une roue verticale ?

4. Peux-tu réaliser un pont basculant ?

(Dessine ce que tu as fait.)

